

---

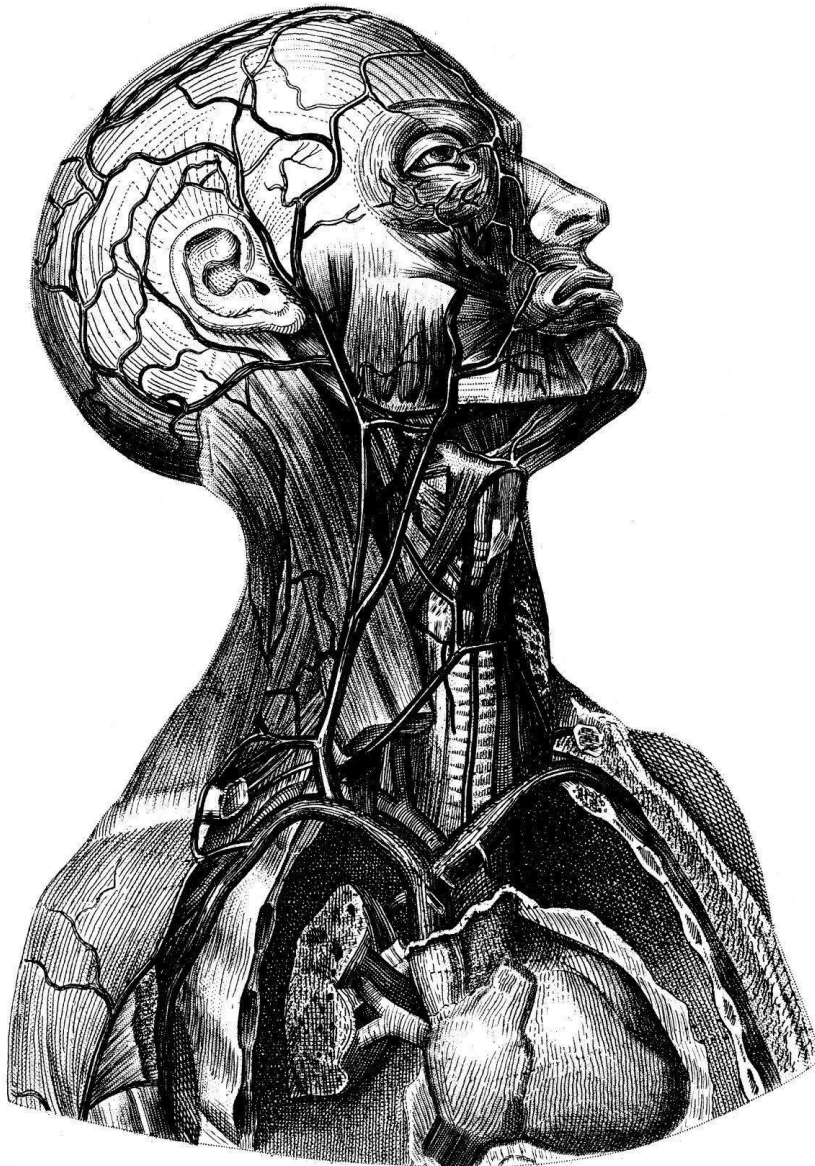
# ජීව විද්‍යාව

---

අධ්‍යයන පොදු සහතික පත්‍ර සාමාන්‍ය පෙළ විභාගය

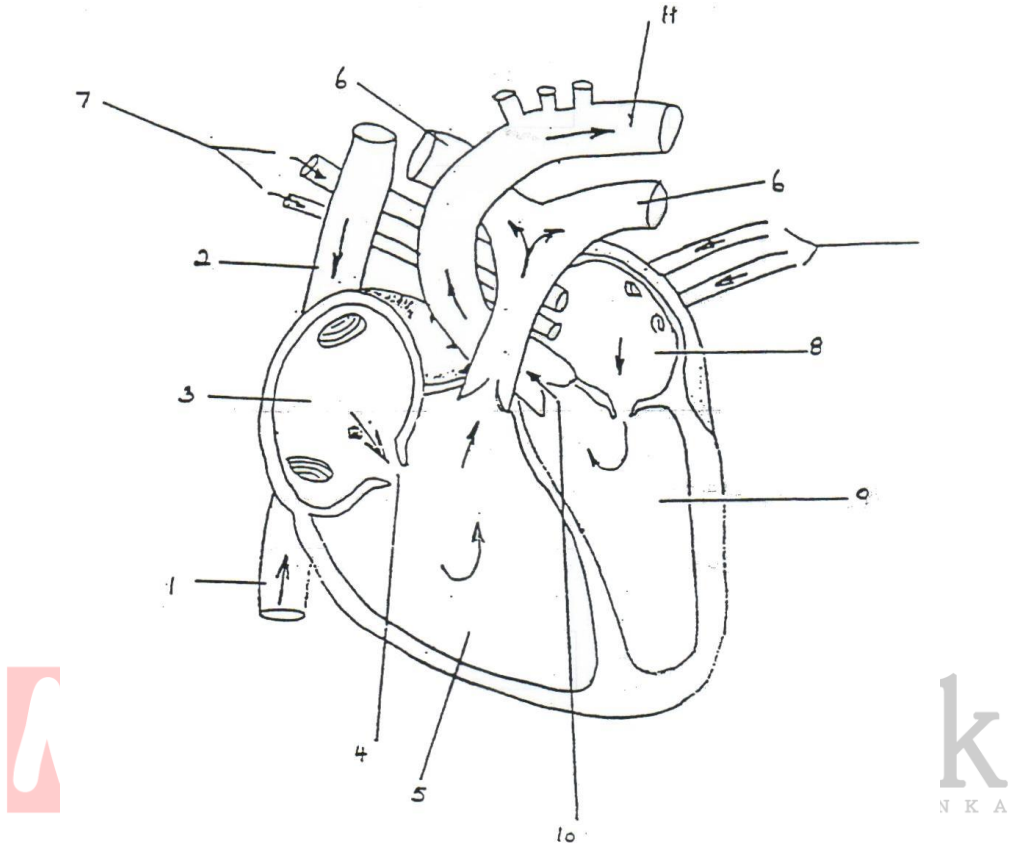
2018

මානව දේහයේ ප්‍රධාන පද්ධති



## මානව හෘදය

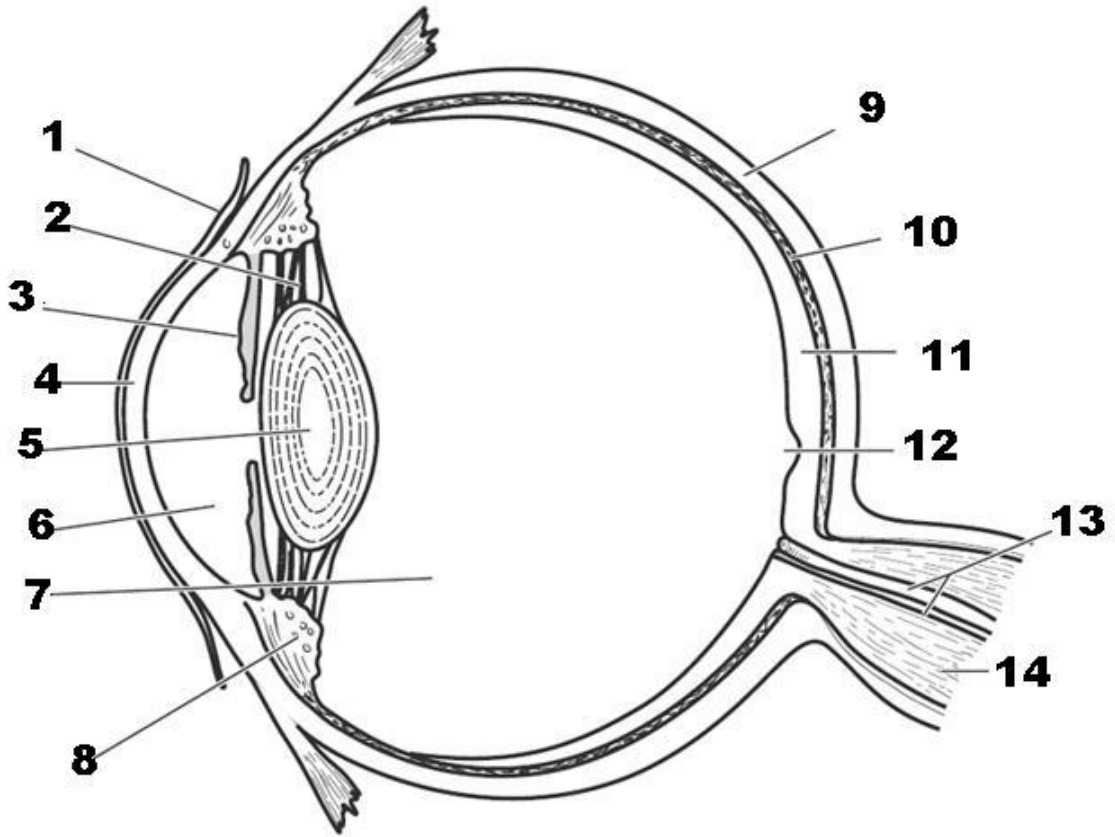
1. මානව හෘදය ආශ්‍රිතව පහත දී ඇති රූපසටහන නම් කරන්න.



2. මානව හෘදයේ ක්‍රියාකාරීත්වය කෙටියෙන් විස්තර කරන්න.

## මිනිසාගේ ඇස

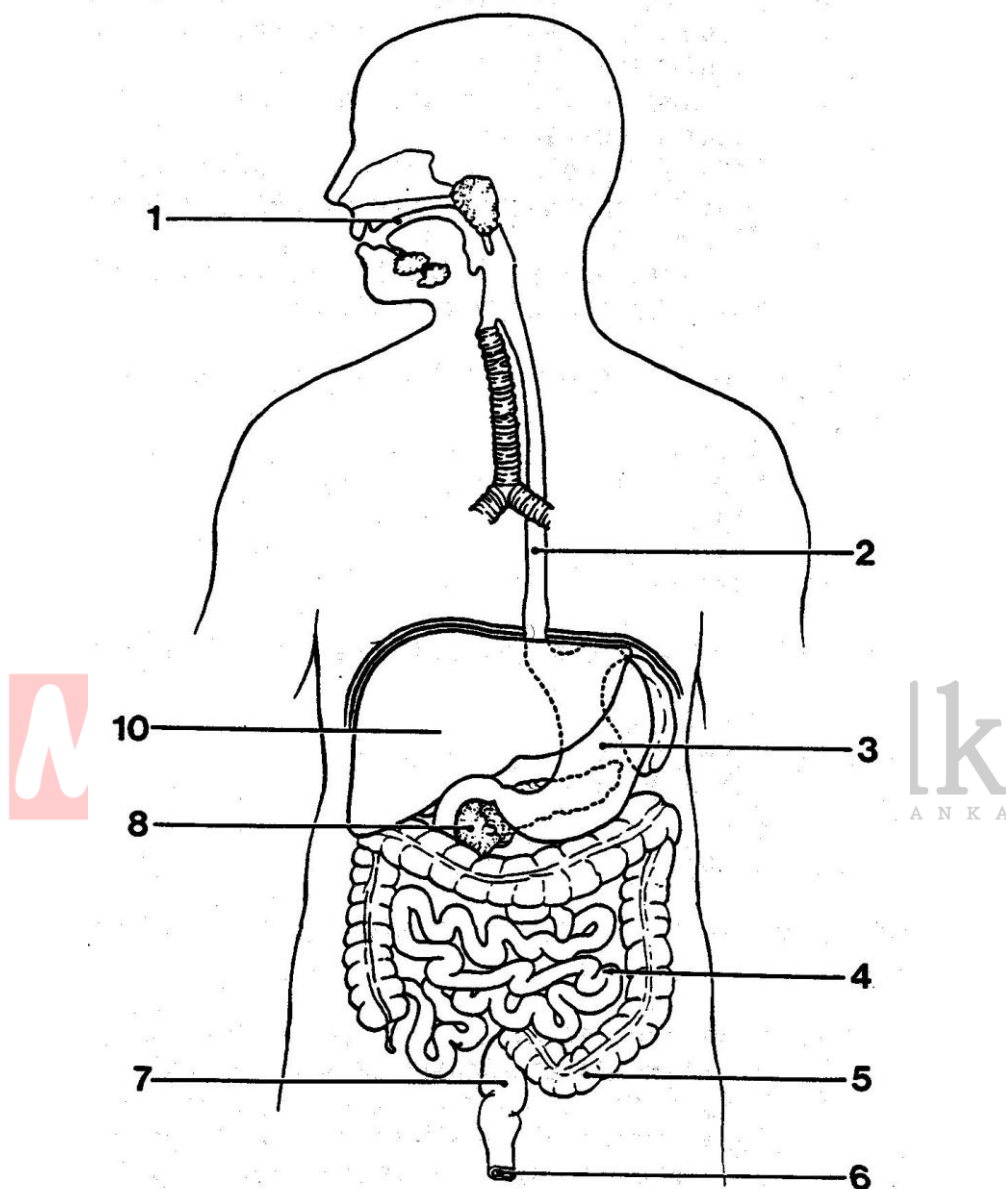
3. මිනිසාගේ ඇස ආශ්‍රිතව දී ඇති පහත රූපසටහන නම් කරන්න.



4. මිනිසාගේ ඇසෙහි ක්‍රියාකාරීත්වය කෙටියෙන් විස්තර කරන්න.

## මිනිසාගේ ආහාර ජීර්ණ පද්ධතිය

5. පහත දී ඇති මිනිසාගේ ආහාර ජීර්ණ පද්ධතියෙහි රූපසටහන නම් කරන්න.



6. ශරීරයට ඇතුළු වන ආහාර කොටසක් ජීර්ණය වන අකාරය කෙටියෙන් විස්තර කරන්න.

7. ගුණාත්මක සිදුවන ආහාර ජීර්ණයේ දී සෑදෙන අන්ත ඵල ආශ්‍රිත පහත වගුව අධ්‍යයනය කරන්න.

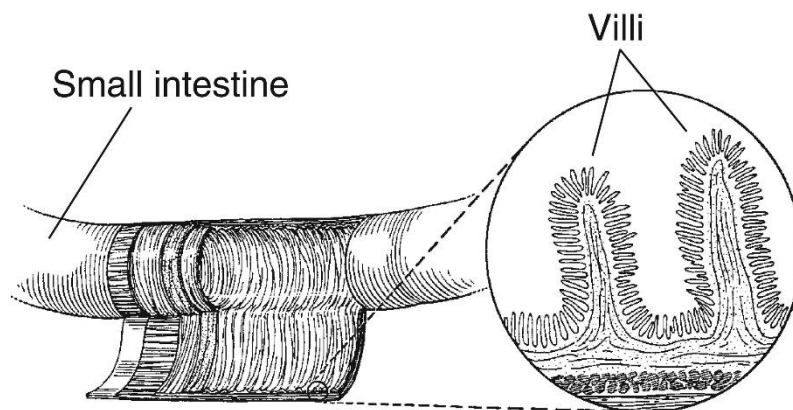
සුවය වන ඉන්ද්‍රියය	විභිසයිම වර්ගය	උපස්තරය (ක්‍රියා කරන ආහාර වර්ගය)	සෑදෙන ඵල
අග්නායාශය (අග්නායාශයික යුෂය)	ට්‍රිප්සින් ඇමයිලේස් ලයිපේස්	ප්‍රෝටීන් පිෂ්ටය ලිපිඩ	පොලිපෙප්ටයිඩ මෝල්ටෝස් මේද අම්ල සහ ග්ලිසරෝල්
ක්ෂුද්‍රාන්ත්‍රය (ආන්ත්‍රික යුෂය)	මෝල්ටේස් සුක්රෝස් ලැක්ටේස් පෙප්ටිඩේස්	මෝල්ටෝස් සුක්රෝස් ලැක්ටෝස් පොලිපෙප්ටයිඩ	ග්ලූකෝස් ග්ලූකෝස් සහ ෆ්රැක්ටෝස් ග්ලූකෝස් සහ ගැලැක්ටෝස් ඇමයිනෝ අම්ල

8. ආහාර ජීර්ණයේ ප්‍රධාන ආහාර ආකාර වන කාබෝහයිඩ්‍රේට්, ප්‍රෝටීන්, ලිපිඩ වල ප්‍රධාන අන්ත ඵල සෑදෙන ආකාරය ලියා දක්වන්න.

9. ආහාර ජීර්ණයෙන් නිපදවෙන ඵල කාර්යක්ෂමව අවශෝෂණය කිරීම සඳහා ශුද්‍රාන්ත්‍රය අනුවර්තනය වී ඇති අයුරු පහදන්න.



10. පහත දැක්වෙන අංගුලිකා සම්බන්ධ රූපසටහන අධ්‍යයනය කරන්න.



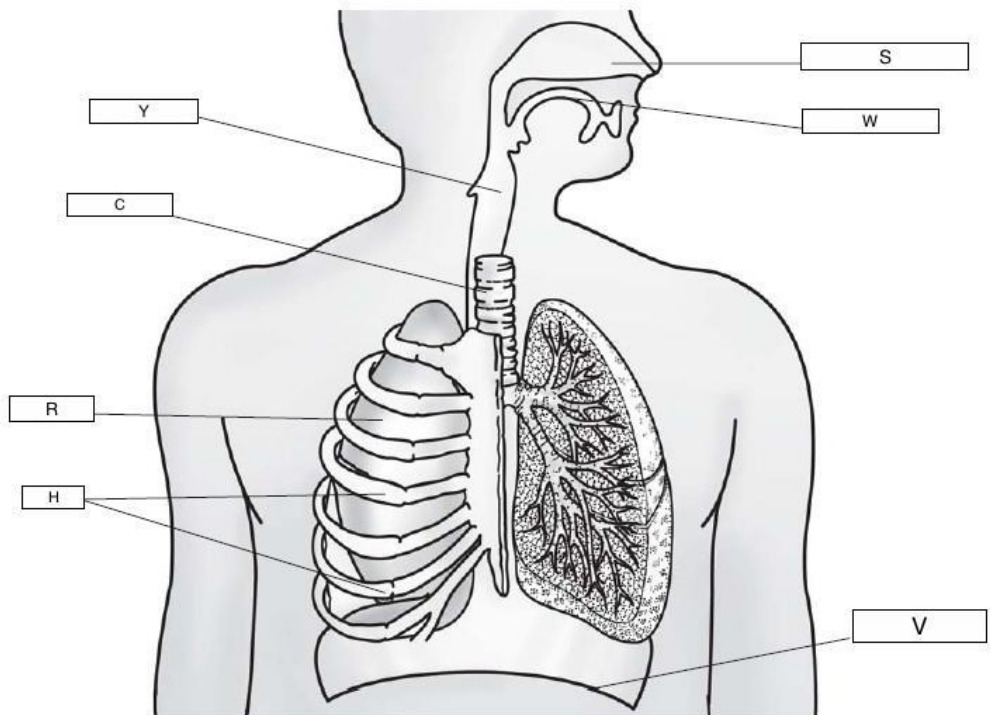


11. ආහාර ජීර්ණ පද්ධතිය ආශ්‍රිතව ඇති වන රෝගී තත්ව කිහිපයක් නම් කරන්න.

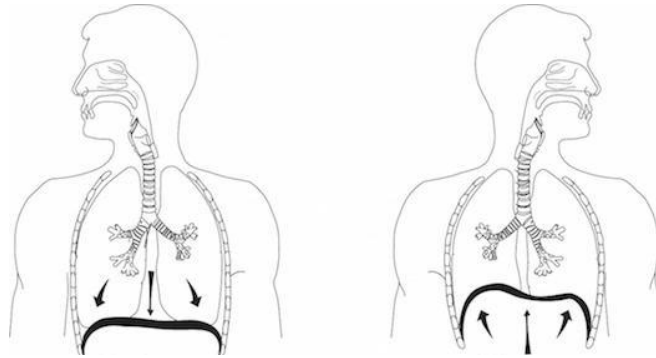


### මිනිසාගේ ශ්වසන පද්ධතිය

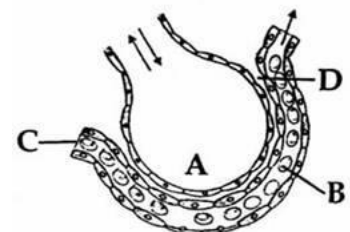
12. මිනිසාගේ ශ්වසන පද්ධතිය ආශ්‍රිත පහත රූපසටහන නම් කරන්න.



13. ශ්වසන පද්ධතිය තුළ සිදුවන ආශ්වාස සහ ප්‍රශ්වාස ක්‍රියාවලිය සිදුවන ආකාරය පහත රූපසටහන ඇසුරින් විස්තර කරන්න.



14. ගර්භයක් තුළ සිදුවන ක්‍රියාවලිය පහත රූපසටහන් ඇසුරින් පහදන්න.





15. ශ්වසන පෘෂ්ඨයක ලාක්ෂණික ගුණ සඳහන් කරන්න.

16. “සෛලීය ශ්වසනය” යනු පැහැදිලි කරන්න.



17. ශ්වසන පද්ධතිය ආශ්‍රිතව සෑදෙන රෝග සඳහන් කරන්න.